


# Rhannu'r pizzas



Family Maths  
Toolkit

Mewn pryd teuluol mae yna 3  
pizza a 4 o bobl i'w rhannu.  
Mae pob un pizza yn un caws.



Mewn sawl ffordd wahanol y gallech chi eu rhannu fel  
bod pawb yn cael yr un faint?

A fyddai hyn yn wahanol pe byddai un pizza yn pizza  
caws, un yn pizza ham, ac un yn pizza corgimwch? Sut  
y byddech yn eu rhannu 'nawr?

Gwnewch eich hoff pizza i'ch teulu - faint o bobl a  
fyddai'n ei rannu? Faint o pizzas y byddech chi'n eu  
cael?

**Sylwadau'r teulu:**

**Sylwadau'r plentyn:**



**Cyswilt  
Cwricwlwm**

Adnabod, canfod,  
enwi ac ysgrifennu  
ffracsiynau siâp, set  
o wrthrychau neu  
faint; adnabod  
cywerthedd dau  
chwarter a hanner.

# Meddyginiaeth milfeddyg



Family Maths  
Toolkit

Mae potel o feddyginiaeth yn dal 50 ml.

Mae ar gath angen 5 ml bob dydd, mae ar gwningen angen 4 ml, mae ar gi angen 20 ml, mae ar geffyl angen 30 ml, mae ar fochyn cwta angen 3 ml, mae ar afr angen 25 ml, ac mae ar fadfall angen 2 ml.

Pa mor hir fyddai potel yn para ar gyfer pob anifail?

Dychmygwch eich bod yn filfeddyg yn eich cymdogaeth: pa anifeiliaid sydd gennych yn eich milfeddygfa ar hyn o bryd? Faint o feddyginiaeth y bydd arnoch ei hangen?


A allwch ddod o hyd i botel sy'n dal 200 ml, neu tua hynny, yn eich tŷ? Ar gyfer beth y mae'n cael ei defnyddio?

Defnyddiwch  $<$  (llai na);  $>$  (mwy na) neu  $=$  (yn hafal i).  
Er enghraifft: potel o saws tomato  $>$  200 ml.

Pa mor hir yr ydych yn meddwl y bydd yn para ar gyfer eich teulu chi?

**Sylwadau'r teulu:**

**Sylwadau'r plentyn:**



**Cyswllt  
Cwricwlwm**


Defnyddio unedau safonol priodol i amcangyfrif, mesur, cymharu a threfnu capasiti (l/ml); defnyddio  $<$ ,  $>$  a  $=$

**Mae yna lawer o fathau gwahanol o anifeiliaid yn y sw. Mae gan rai 2 goes, mae gan rai 4 coes, mae gan rai fwy na 4 coes, a does gan rai ddim coesau o gwbl!**

A allwch chi a'ch teulu neu'ch ffrindiau feddwl am yr holl anifeiliaid sw yr ydych yn eu hoffi, a chyfrif faint sy'n ffitio i bob grŵp yn ôl faint o goesau sydd ganddynt?

Gallech dynnu llun, pictogram, siart cyfrif, siartiau bar neu dabl.

A allwch feddwl am anifail ar gyfer pob grŵp? Pa grŵp oedd â'r mwyaf? Faint yn fwy oedd â 4 coes o gymharu â'r rhai a oedd heb goesau?



**Sylwadau'r teulu:**

**Sylwadau'r plentyn:**



## Cyswllt Cwricwlwm

Coladu, trefnu a chymharu gwybodaeth gan ddefnyddio pictogramau, siartiau cyfrif, diagramau bloc neu dablau syml.