

Roedd Maciez, peintiwr a phapurwr, yn paentio ystafell fyw. Canfu fod $\frac{1}{5}$ o dun paent yn gorchuddio 2.5 metr sgwâr o wal.

Faint o wal y byddai tun cyfan yn ei orchuddio? Amcangyfrifwch faint o ganiau o'r un paent y byddai arnoch eu hangen i baentio waliau eich ystafell wely.

Sylwodd Maciez fod ar y nenfwd angen paent gwyn a bod $\frac{1}{3}$ o dun yn gorchuddio 3.5 metr sgwâr. Faint o nenfwd y byddai'r tun cyfan yn ei orchuddio?

Faint o ganiau a fyddai'n ofynnol i orchuddio nenfwd eich ystafell wely?



Sylwadau'r teulu:

Sylwadau'r plentyn:



Cyswllt Cwricwlwm

Defnyddio ffracsiynau i ddatrys problemau sy'n golygu cyfrifo a chymharu arwynebedd petryalau (yn cynnwys sgwariau), gan ddefnyddio unedau safonol yn achos metrau sgwâr.


Sw anifeiliaid anwes i blant

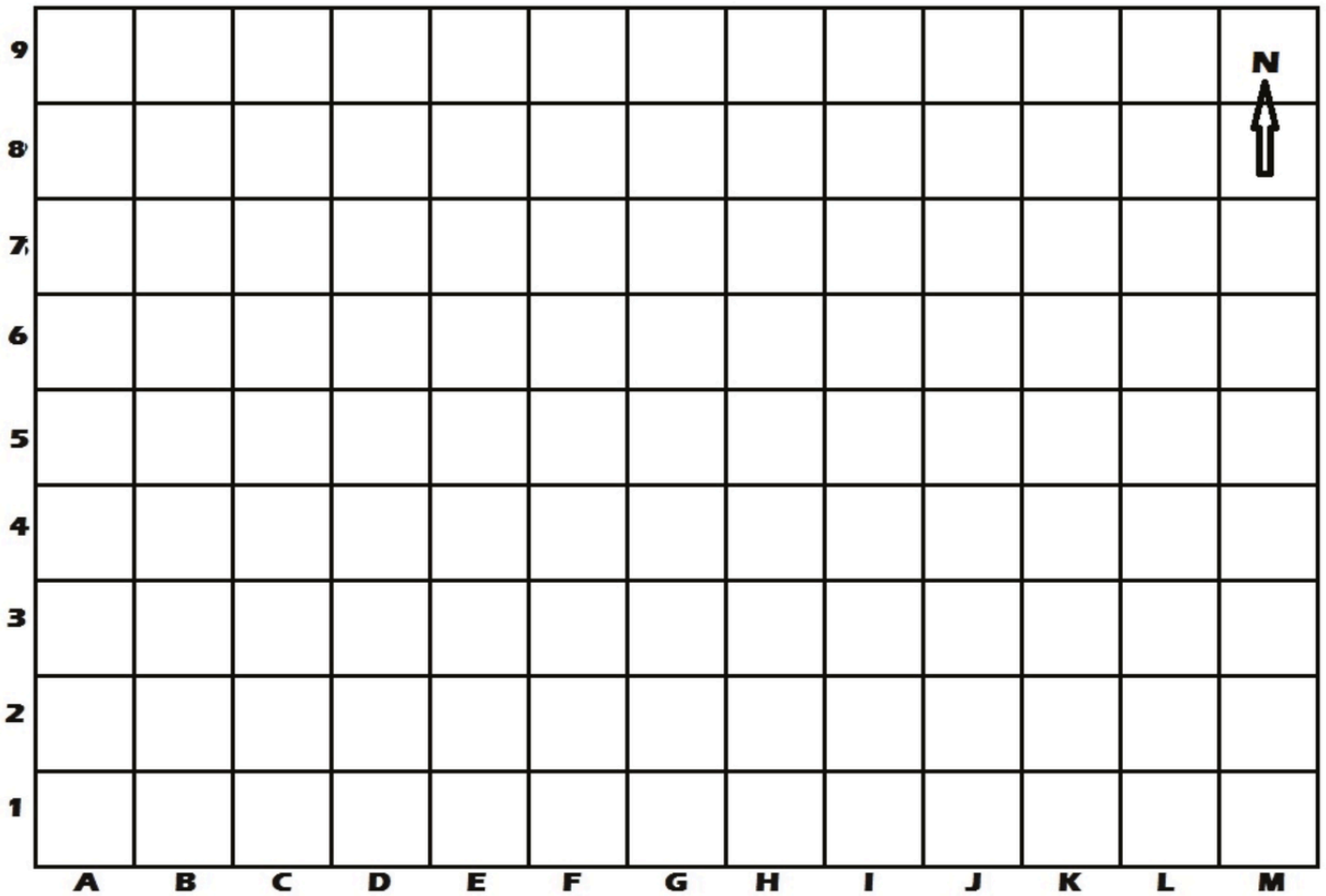


Family Maths
Toolkit

Yn y sw anifeiliaid anwes lleol, mae ar yr anifeiliaid angen llociau PETRYAL. (1 sgwâr = 1 m²)

1. Lluniwch loc ieir sy'n gorchuddio arwynebedd o 36 m² yng nghornel dde-orllewinol y map. Tynnwch lun yr ieir a lliwiwch y lloc yn felyn.
2. Yng nghanol y map lluniwch loc cwningod sy'n gorchuddio 4 m². Tynnwch lun y cwningod a lliwiwch y lloc yn wyrdd.
3. Yn nwyrain y map lluniwch loc wŷn sy'n gorchuddio 10 m². Tynnwch lun yr wŷn a lliwiwch y lloc yn frown golau.
4. A allwch ffitio llociau eraill i mewn? Pa ardal sydd ganddynt a pha anifeiliaid sy'n cael eu cadw yno? Lluniwch lwybrau i uno pob un o'ch llociau.





5. A allech lunio grid arall a dylunio eich sw eich hun ar gyfer anifeiliaid eraill? Gofalwch fod yr anifeiliaid mwyaf yn cael llociau â'r arwynebedd mwyaf fel arfer. A allwch gynnwys unrhyw lociau nad ydynt yn betryal?

D.S.: Darparwch bapur sgwâr ar gyfer y ddau ymarfer.

Sylwadau'r teulu:

Sylwadau'r plentyn:

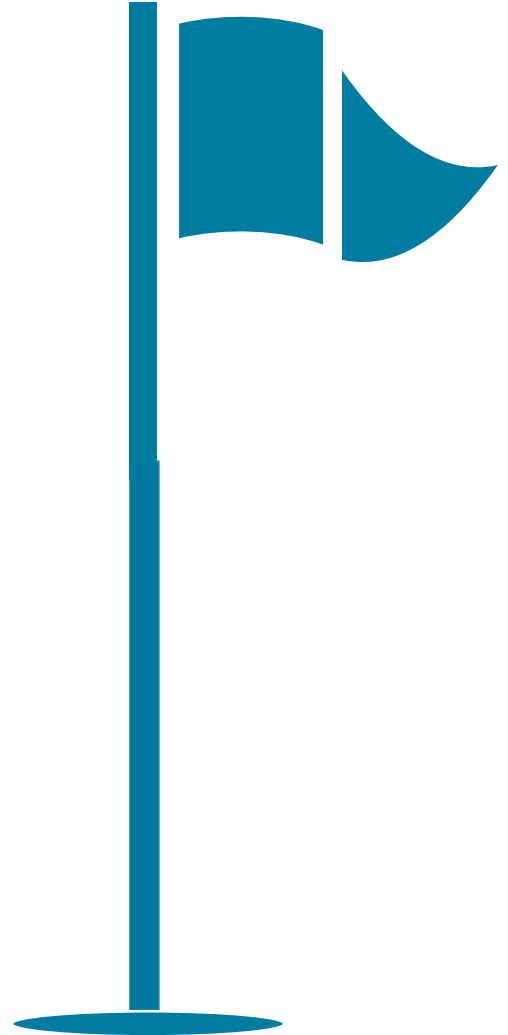


**Cyswllt
Cwricwlwm**

Cyfrifo arwynebedd
petryalau gan
ddefnyddio
centimetrau/metra
u sgwâr; gwybod
am bwyntiau'r
cwmpawd.

Mae diamedr pêl golff yn 4 cm.
Mae ar dad Sally eisiau gwneud
blwch a fydd yn dal 6 pêl golff fel
y gall fynd ag e i'r cwrs golff lleol
gyda'i ffrindiau.

Pa faint (hyd a lled) a allai'r blwch fod? A
oes yna fwy nag un ateb?



Sylwadau'r teulu:

Sylwadau'r plentyn:



Cyswllt Cwricwlwm

Mesur a chyfrifo
perimedr siapiau
mewn centimetrau.